

地 理 B

(4 問題 100 点)

I

地理B問題

(25 点)

右ページの図1は、ある半島の2万5千分の1地形図(昭和50年改測、平成20年更新、原寸大)である。3ページの図2は、図1の範囲を含む衛星画像である。図1および図2を見て、問(1)~(7)に答えよ。解答はすべて所定の解答欄に記入せよ。字数制限のある問については、句読点も字数に含めよ。

問

- (1) この半島の地形を、解答欄①に答えよ。また、Aの湖沼は地形上、何に分類されるか、解答欄②に答えよ。
- (2) 同じ半島でも、Aに面した側とBに面した側では、水際線の形状と水辺の土地利用が異なる。図1から、それぞれの主要な土地利用を、Aに面した側は解答欄①に、Bに面した側は解答欄②に答えよ。
- (3) Bに面した側の水辺の土地利用が果たしてきた役割とは何か、答えよ。
- (4) Aに面した側の水際線は、どのように形成されたか、Aに面した側の土地利用にふれながら、50字以内で述べよ。
- (5) Aの湖沼は、かつて戦後の食糧難を背景として、淡水化事業が計画された。この淡水化事業は、図1の地域にどのような効果をもたらすことを目的としていたか、それ以前から半島の中央部に引かれていた用水路(図1のあーい)の役割をふまえて、60字以内で述べよ。
- (6) 図1に見るように、この半島における集落は列状に並んでいる。列状に並ぶ集落は、どのような地形に立地していると考えられるか、答えよ。
- (7) この半島では、主要な作物として、ねぎが栽培されている。当地におけるねぎ栽培の多くは、輸送園芸に分類されるが、輸送園芸とはどのような農業か、答えよ。

図1

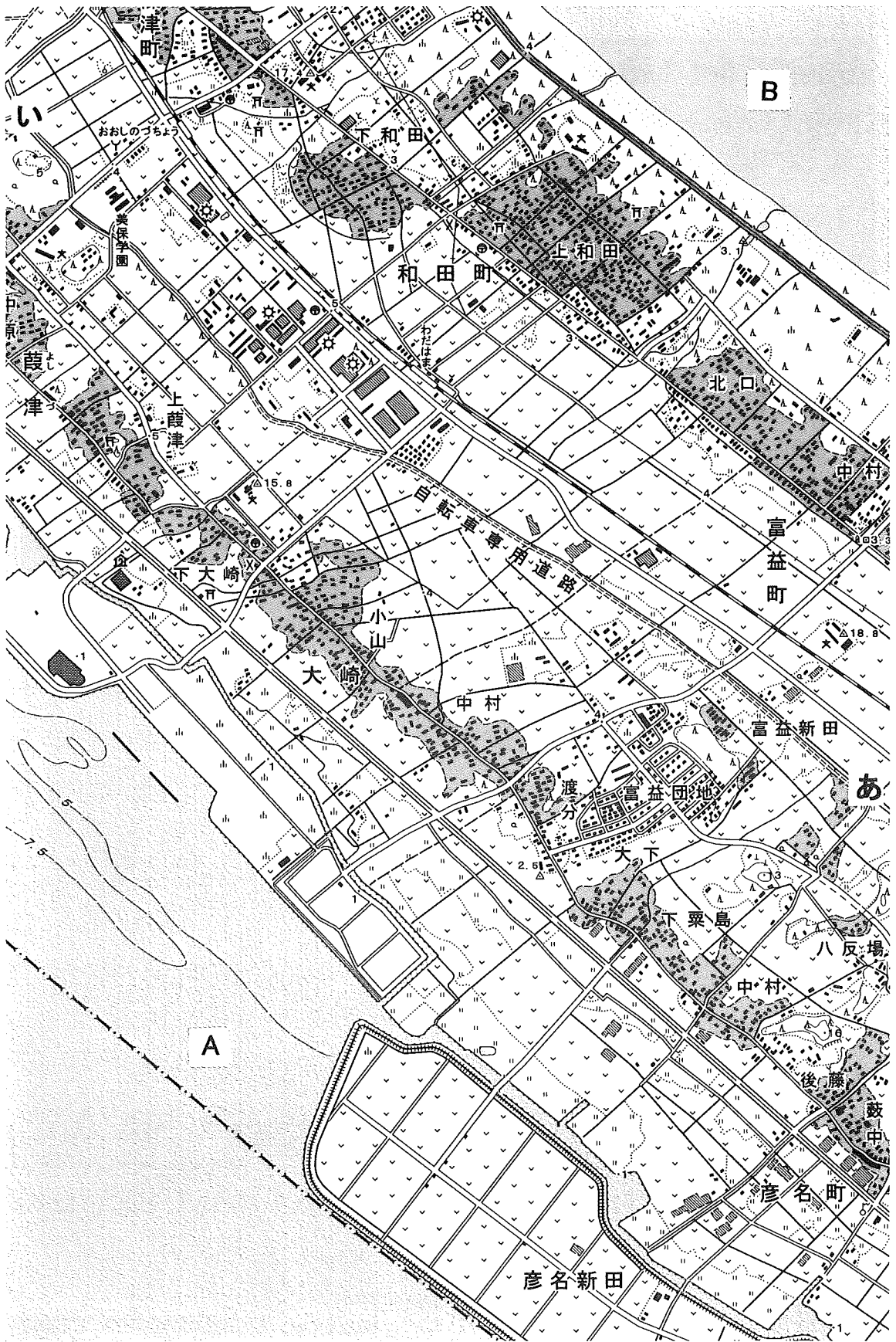



図 2



資料：LANDSAT 衛星画像 (<http://glcf.umd.edu>) 2000 年 10 月 19 日撮影。

注：図中の白枠は，図 1 の範囲を示す。

Ⅱ 地理B問題


(25点)

世界の植生帯について書かれた次の文 a～g を読んで、問(1)～(6)に答えよ。解答はすべて所定の解答欄に記入せよ。字数制限のある問については、句読点も字数に含めよ。

- a 樹高が 30～50 m にも達し、主に常緑広葉樹からなる森林が分布する。
- b 常緑針葉樹の純林が広く分布する。
- c ブナなどの落葉広葉樹が広く分布する。
- d オリーブなどの小さく硬い葉の樹木が生育している。
- e 草丈の高い草原のなかに、a の植生帯に比べ、背の低い傘状の落葉広葉樹などが点在する。
- f 背丈の高いイネ科の植物の草原が広がっている。
- g 植生がほとんど見られない。

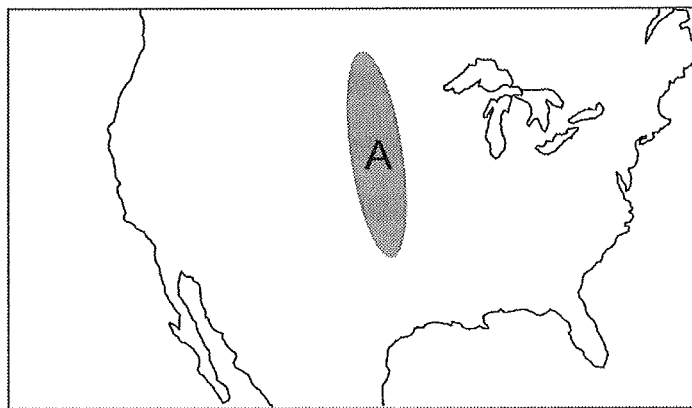
問

- (1) 下の写真は e の植生帯のものである。この植生帯を何と呼ぶか、答えよ。



- (2) a と e の植生帯について、降水量の点から両者の気候の違いを、30 字以内で述べよ。
- (3) d のような植生が見られる地域の気候の特徴を述べよ。

- (4) g にあてはまる植生帯に砂漠がある。赤道以南のアフリカ西岸にある砂漠の名称を解答欄①に、南アメリカ西岸にある砂漠の名称を解答欄②に答えよ。また、これらの砂漠に共通する特徴的な成因を、解答欄③に 50 字以内で説明せよ。
- (5) 下の図の A のあたりで見られる植生の特徴に最もふさわしいものを、a ~ gの中から選び、解答欄①に答えよ。また、その植生帯の土壌の特徴を、気候や農業との関係から、解答欄②に 50 字以内で述べよ。



- (6) a, b, d の植生帯に位置する地名としてあてはまるものを、下のあ~かから、それぞれ 1 つを選んで記号で答えよ。

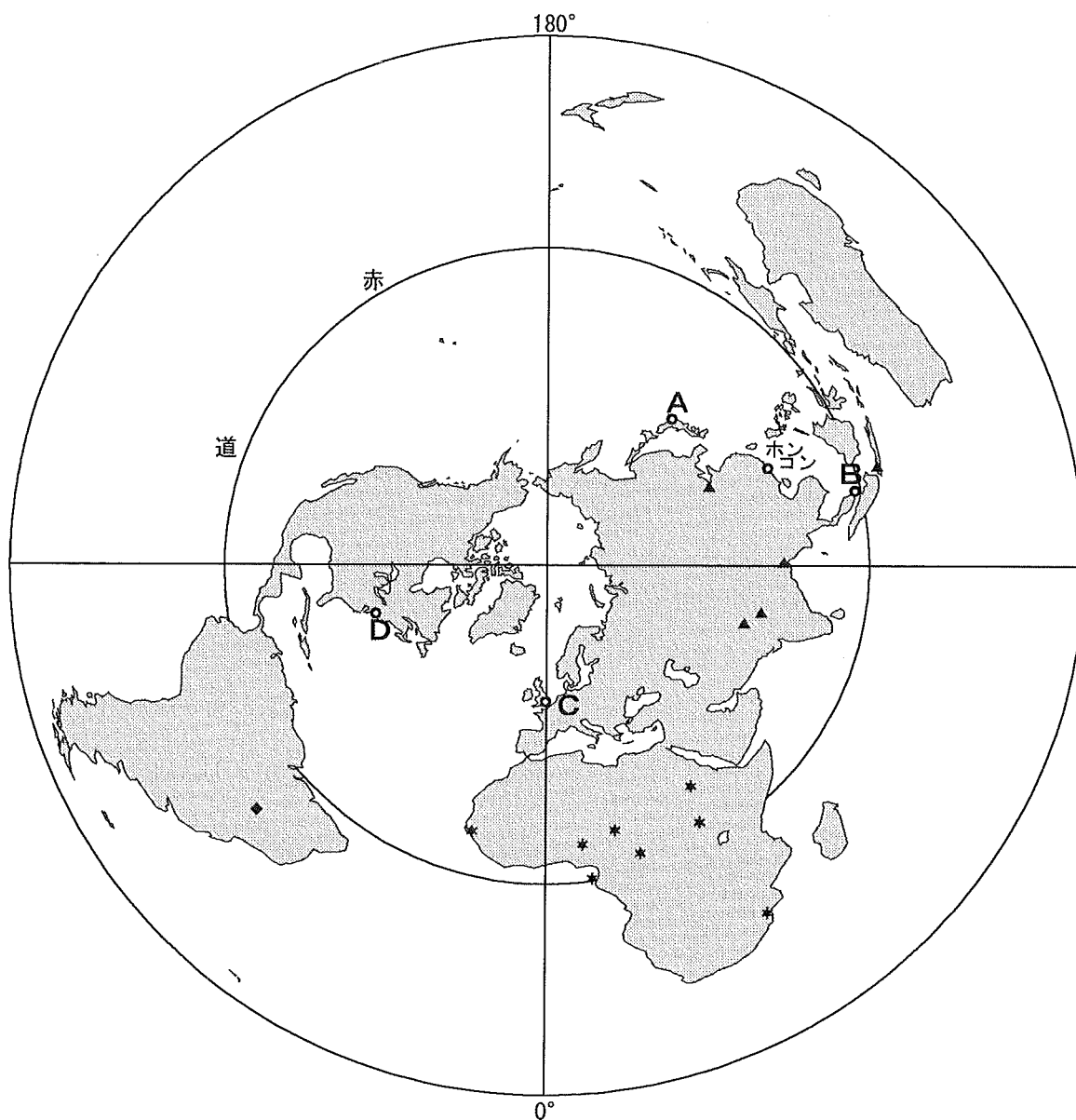
あ	イルクーツク	い	キサングニ	う	ケープタウン
え	パリ	お	バンコク	か	リヤド

III 地理B問題

(25点)

下の地図に示した都市に関するグラフ1～3を見て、グローバルに展開される金融活動と深刻化するスラムとにかかわる、問(1)～(5)に答えよ。解答はすべて所定の解答欄に記入せよ。字数制限のある問については、句読点も字数に含めよ。

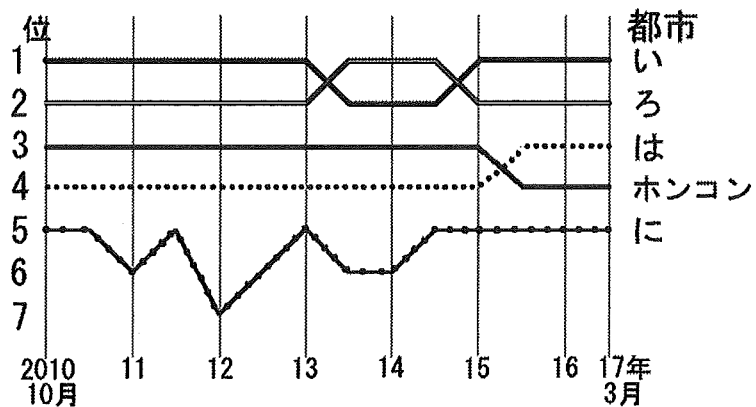
地図



問

- (1) 地図中に示した A～D およびホンコン(香港)は、世界有数の金融センターの機能をもつ都市である。グラフ 1 は、これら 5 都市の総合的な競争力を表す国際金融センター指数の順位変動を示す。グラフ 2 は、年間収益額が世界の上位 500 の企業の本社の国・地域別の数を表し、これら 5 都市に所在する本社数も合わせて示す。グラフ 1 とグラフ 2 で示したい～にの記号は、それぞれ同一都市に対応する。グラフ 1 とグラフ 2 で、A～D の都市に該当するものをい～にから選び、その記号を解答欄に記入せよ。

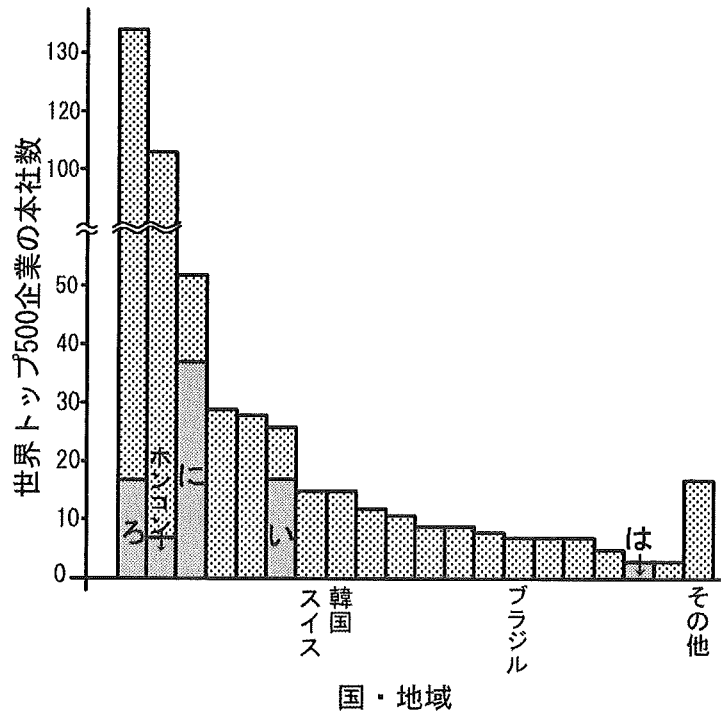
グラフ 1 5 都市の国際金融センター指数の順位変動



資料：The Global Financial Centres Index 8-21.

注：この資料は、イギリスのシンクタンクによる、金融センターとしての都市の国際競争力を示す指数の順位に関するレポート(2回/年)である。

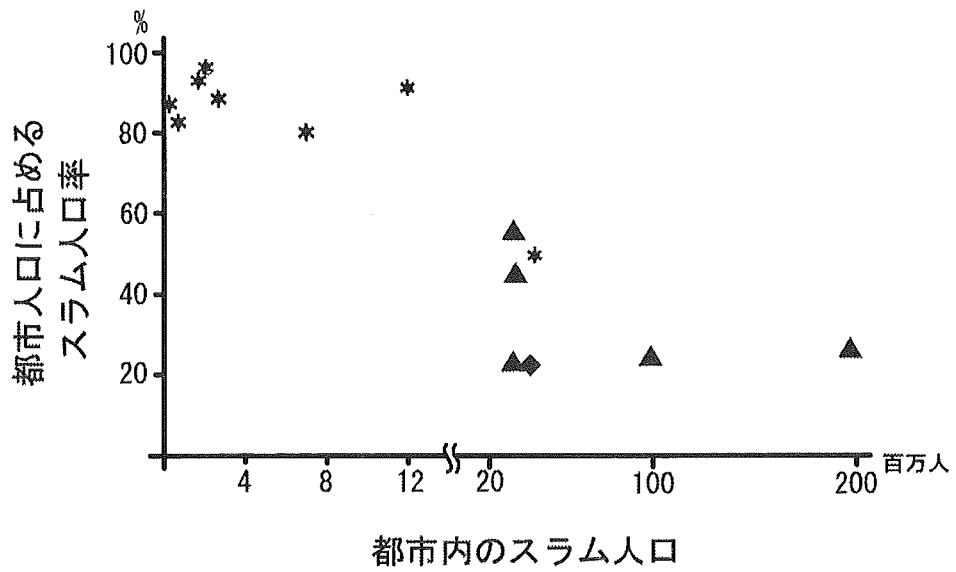
グラフ2 国・地域別、および5都市に所在する世界のトップ500企業の本社数



資料：The Fortune 2016 Global 500 (<http://fortune.com/global500/>)

- (2) 国際的な金融センターとして発展する上で重要な条件はどのようなものか、交通については解答欄①に、人材については解答欄②に、それぞれ述べよ。
- (3) 7ページの地図中に*、▲、◆で示した都市を首都とする国々は、都市内のスラムに居住する人口の上位7か国と都市人口に占めるスラム人口率の上位7か国である。*と▲の国々について、グラフ3からどのような地域的な傾向が読み取れるか、述べよ。
- (4) 途上国の農村部から大都市に大量に流入する人口を受け入れるには、社会資本や住宅に関してどのような整備が必要とされるか、60字以内で述べよ。
- (5) 行政の指導の下での正式な雇用契約や社会保障などが無い状態で行われる経済活動で、国家の統計や記録に含まれない部門を何とよいか、解答欄①に答えよ。また、親や親戚などによる養育や保護を受けずに路上で生活をする子どもを何とよいか、解答欄②に答えよ。

グラフ3 14か国(地図中に*, ▲, ◆で示した都市を首都とする国々)の都市内のスラム人口と都市人口に占めるスラム人口率の関係(2014年)



資料：United Nations (<https://millenniumindicators.un.org/>)

IV

地理B問題

(25点)

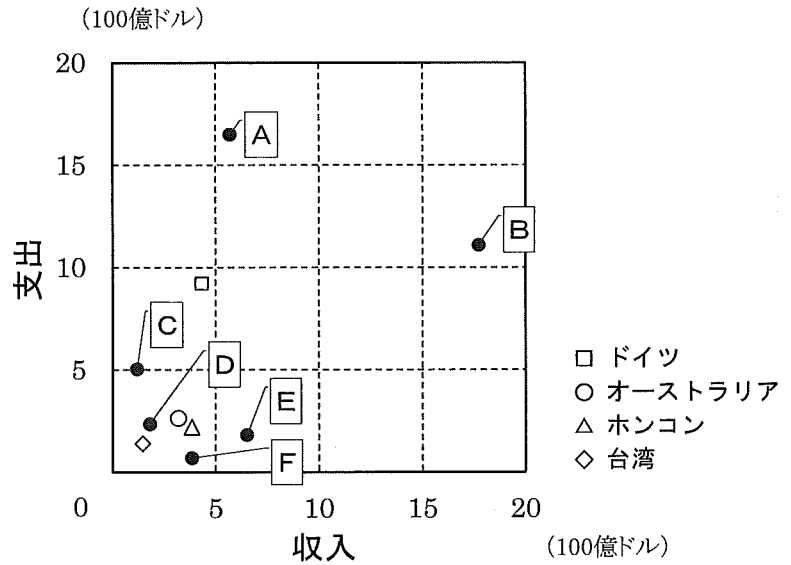
右ページのグラフ1は、下の10の国・地域の国際旅行収支を表したものである。また、グラフ2は、日本からこれらの国・地域を訪問した旅行者数と、それぞれの国・地域からの訪日外国人旅行者数を表したものである。これらのグラフを見て、次の問(1)~(5)に答えよ。解答はすべて所定の解答欄に記入せよ。字数制限のある問については、句読点も字数に含めよ。

アメリカ合衆国 オーストラリア 韓国 スペイン タイ
台湾 中国 ドイツ ホンコン(香港) ロシア

問

- (1) グラフ1とグラフ2のA~F国のうち、①韓国、②タイ、③中国、④ロシアに該当するものを、それぞれ記号で答えよ。
- (2) グラフ1が示すようにB・E・F国は旅行支出よりも収入が大きい。このうちE国を訪問する観光客が多い理由を、観光客を送り出している国々の位置や習慣に留意して、40字以内で述べよ。
- (3) F国やオーストラリアなどでは、観光活動の特徴の一つにエコツーリズムがある。エコツーリズムが広がった背景として、従来の観光産業や観光活動がどのような問題を引き起こしてきたか、40字以内で述べよ。
- (4) グラフ2を見て、日本に多くの旅行者を送り出す国・地域にはどのようなところが多いか、その経済的な背景や理由に触れながら、40字以内で述べよ。
- (5) 観光活動の発展に影響を与える制度の一つに、UNESCOの世界遺産がある。上に示した10の国・地域の世界遺産に関して、次に該当する湖・都市・島の名称をそれぞれ答えよ。
 - ① 世界で最も深く、固有種が豊かで、自然遺産に登録された淡水湖。
 - ② 文化遺産に登録された宮殿をもつ、標高約3,700メートルにある都市。
 - ③ アボリジニの遺跡や原始的な哺乳類を特徴とする、複合遺産をもつ島。

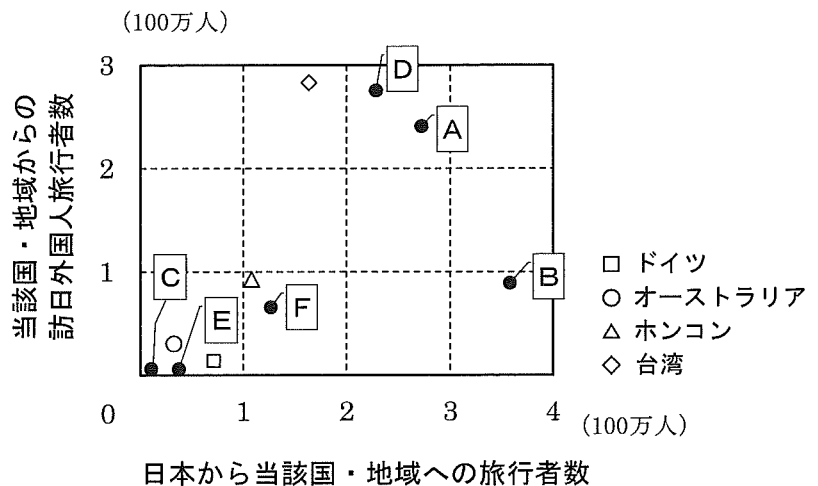
グラフ 1
国際旅行収支
(2014 年)



資料：平成 28 年度版『観光白書』。

注：収入はその国・地域で他の国・地域からの旅行者が消費した金額を，支出はその国・地域の旅行者が他の国・地域で消費した金額を示す。

グラフ 2
日本からの旅行者数と
訪日外国人旅行者数
(2014 年)



資料：平成 28 年度版『観光白書』。

注：横軸の旅行者数はそれぞれの国・地域の統計によるもので，国籍または居住地を基準とする。E のみ 2013 年の統計。

地理 B 問題は，このページで終わりである。