


世界史 A

(解答番号 ~)

第1問 近現代の国家は、前近代の伝統を利用して国家統合を進めた。伝統の利用による国家形成について述べた次の文章A～Cを読み、下の問い(問1～10)に答えよ。(配点 30)

A ① ルーマニアの多くの都市の目抜き通りには、オオカミの乳を飲むローマ建国の伝説上の祖ロムルスとレムスの像が置かれている(下図参照)。この双子の像は、ルーマニアが近代国家建設の過程で自らの起源としてローマ帝国を強く意識し、それを② ナショナリズムの中心に据えたことを表している。③ 冷戦期の東側陣営に属していた頃は、西欧との密接な結び付きを連想させるローマ帝国は忌避され、ローマ軍によって征服された先住民の王がより強調される傾向があったが、冷戦終結後には、ヨーロッパ回帰の流れの中で、ローマ帝国との結び付きが再び強調されるようになった。



ルーマニアの都市クルージュ＝ナポカの街角にあるロムルスとレムスの像

世界史 A

問 1 下線部①の歴史について述べた文として正しいものを、次の①～④のうちから一つ選べ。

- ① ローマ帝国の時代にガリアと呼ばれた。
- ② ベルリン会議で独立を承認された。
- ③ ズデーテン地方の割譲を求められた。
- ④ 自主管理労働組合「連帯」の運動が起こった。

問 2 下線部②に関連して、世界史上の民族運動や統一運動について述べた文として正しいものを、次の①～④のうちから一つ選べ。

- ① 大陸会議で、ドイツ統一が話し合われた。
- ② ベトナムは、ソ連軍の撤退後に統一された。
- ③ 金日成が、南北首脳会談を実現させた。
- ④ アラファトが、パレスチナ解放機構(PLO)を指導した。


問 3 下線部③について述べた次の文中の空欄 と に入れる語の組合せとして正しいものを、下の①～④のうちから一つ選べ。

第二次世界大戦後、東欧の大部分を影響下に置いたソ連は、 を結成して経済協力体制を構築し、また、軍事同盟としての を結成し、西側陣営に対抗した。

- ① アーコミンテルン イー中央条約機構
- ② アーコミンテルン イーワルシャワ条約機構
- ③ アーコメコン イー中央条約機構
- ④ アーコメコン イーワルシャワ条約機構

世界史 A

B パフレヴィー朝のモハンマド＝レザー＝シャーは、即位 27 年目の 1967 年に、古代から続く伝統的な称号「シャーハーンシャー(王の中の王)」を採用し、国を挙げて戴冠式を行った(下図左参照)。1971 年、シャーは、④「イラン建国 2500 年」を記念して、ペルセポリスで祭典を行う(下図右参照)。この祭典には、⑤日本やイギリス、アメリカ合衆国など、およそ 60 か国から、王族や国家元首をはじめとする数多くの人々が招待された。しかし、その後 10 年を経ずして、革命によって王制は倒され、新政権は、隣国の⑥イラクと 9 年間にわたって戦争するに至った。



戴冠式(左)とペルセポリスでの祭典パレード(右)

問 4 下線部④に関連して、建国者や初代大統領について述べた文として正しいものを、次の①～④のうちから一つ選べ。 4

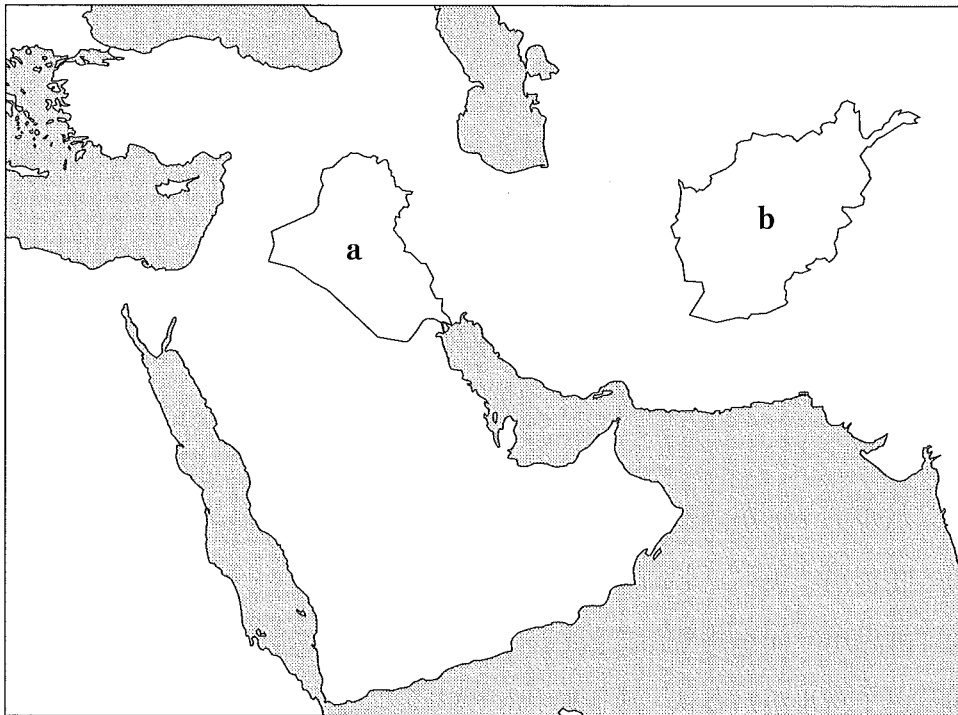
- ① アウラングゼーブが、ムガル帝国を建てた。
- ② 煬帝が、漢を建てた。
- ③ リンカンが、アメリカ合衆国の初代大統領となった。
- ④ ムスタファ＝ケマルが、トルコ共和国の初代大統領となった。

世界史 A

問 5 下線部⑤に関連して、日本の対外関係について述べた文として正しいものを、次の①～④のうちから一つ選べ。

- ① 江戸幕府が、欧米に岩倉使節団を派遣した。
- ② 倭寇は、北虜と呼ばれた。
- ③ 沖縄が日本に復帰した年に、日中の国交正常化が果たされた。
- ④ 朱印船貿易を通して、メキシコに日本町がつけられた。

問 6 下線部⑥の国の位置を示す次の地図中の a または b と、2003 年のイラク戦争で打倒された政権の名との組合せとして正しいものを、下の①～④のうちから一つ選べ。



- ① a — フセイン政権
- ② a — ターリバーン政権 (タリバン政権, タリバーン政権)
- ③ b — フセイン政権
- ④ b — ターリバーン政権 (タリバン政権, タリバーン政権)

世界史A

C 中国の内モンゴル自治区には、チンギス＝ハーンの名を冠した二つの施設が存在する。⑦黄河湾曲部のオルドス地方にある「チンギス＝ハーン陵」では、現在も、⑧モンゴル帝国以来の祭祀が行われている。他方、内モンゴル東部のウランホト(旧王爺廟^{おうやびよう})にある「チンギス＝ハーン廟」は、1944年に建設された。当時、⑨満州国(満洲国)の領域に含まれていた内モンゴル東部の人々は、⑩民族の象徴として廟の建設を望み、日本側も彼らを取り込むために建設を承認した。廟の落成式は、神道式の礼拝から始められたが、そこから、モンゴル人の英雄を利用して満州国内の政治的統合を図る日本の施策を見ることができる。

問 7 下線部⑦に関連して、華北で起こった出来事について述べた文として正しいものを、次の①～④のうちから一つ選べ。

- ① 古代に、稲作を中心とする文明が生まれた。
- ② 周が都を置いた。
- ③ 三国時代に、呉が勢力を広げた。
- ④ 太平天国が都を置いた。

問 8 下線部⑧に関連して、ユーラシアの諸勢力について述べた文として正しいものを、次の①～④のうちから一つ選べ。

- ① パルティアが、モンゴル高原を支配した。
- ② 吐蕃が、チベット高原を支配した。
- ③ 鮮卑が、元を建てた。
- ④ ウイグルが、春秋・戦国時代に勢力を拡大した。

問 9 下線部⑨に関わる出来事について述べた次の文 a と b の正誤の組合せとして正しいものを、下の①～④のうちから一つ選べ。 9

- a 溥儀が、執政に就任した。
- b 国際連合によって、リットン調査団が派遣された。

- ① a — 正 b — 正
- ② a — 正 b — 誤
- ③ a — 誤 b — 正
- ④ a — 誤 b — 誤

問10 下線部⑩に関連して、世界史上の宗教や神殿について述べた文として誤っているものを、次の①～④のうちから一つ選べ。 10

- ① 朝鮮で、道教が成立した。
- ② インドで、バラモン教が成立した。
- ③ アテネで、パルテノン神殿が造られた。
- ④ メッカで、カーバ神殿が造られた。

世界史A

第2問 帝国主義の時代における教育や人材養成について述べた次の文章A～Cを読み、下の問い(問1～10)に答えよ。(配点 31)

A イギリス人の①植民地官僚には、赴任した地域の歴史や②文化に関する著作を残した人物が数多く存在する。中国沿海部のイギリス統治下にあった各地で勤務したレジナルド＝ジョンストンも、このような植民地官僚の一人である。彼は19世紀末に香港に着任したが、当時の香港は、中国の主要な中継港として、また③中国人移民の主な出航地として、めざましい発展を遂げていた。やがてジョンストンは中国社会に深く通じるようになり、後には清朝最後の皇帝だった人物の家庭教師を務め、その日々を綴^つった著作を彼に捧げている。

問1 下線部①について述べた文として正しいものを、次の①～④のうちから一つ選べ。

11

- ① メキシコは、オランダの統治下に置かれた。
- ② カンボジアは、イギリスの保護国となった。
- ③ ベルギーが、ナイジェリアを植民地とした。
- ④ フランスが、タヒチを獲得した。

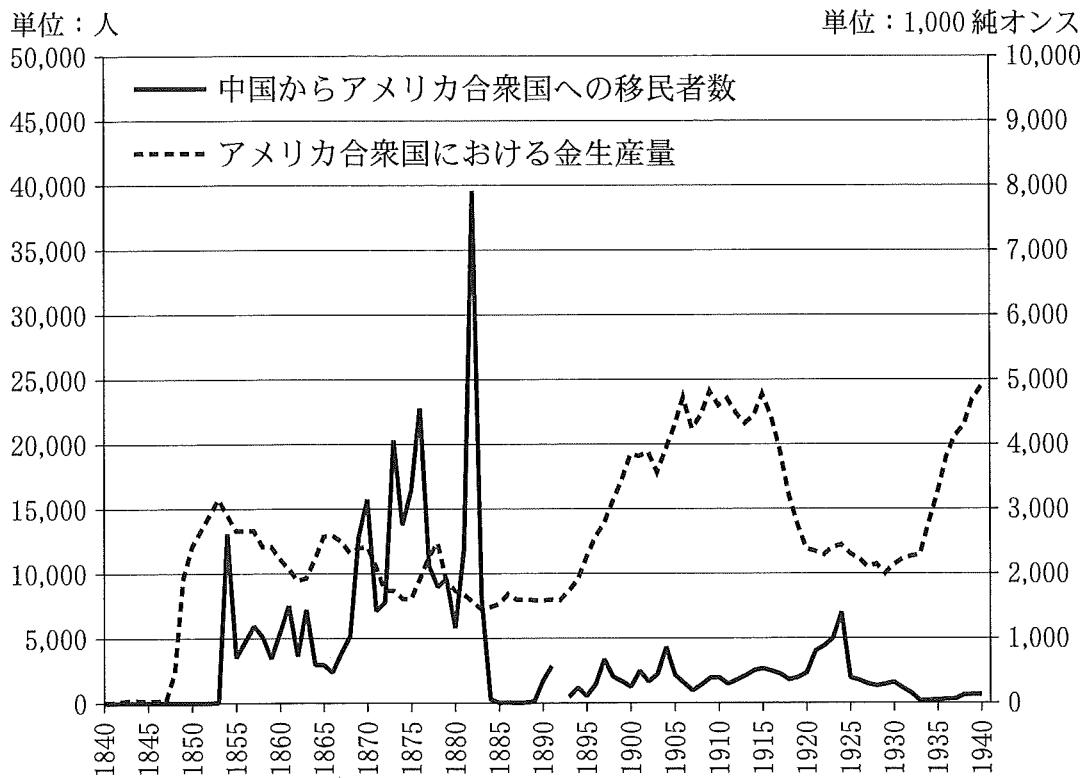
問2 下線部②について述べた文として誤っているものを、次の①～④のうちから一つ選べ。

12

- ① 古代エジプトで、太陽暦が用いられた。
- ② 殷代の中国で、甲骨文字が用いられた。
- ③ 北アメリカで、スワヒリと呼ばれる文化(スワヒリ文化)が生まれた。
- ④ 18世紀のヨーロッパで、啓蒙思想が広がった。

問 3 下線部③に関連して、次のグラフは、1840年から1940年にかけての中国からアメリカ合衆国への移民者数と、アメリカ合衆国における金の生産量の推移を示したものである。このグラフから読み取れる内容について述べた下の文 a と b の正誤の組合せとして正しいものを、下の①～④のうちから一つ選べ。

13



(1892年の移民者数は、参照した資料では欠落している)
(合衆国商務省編『新装版 アメリカ歴史統計』より作成)

- a 移民者数が最初に2万人を超えたのは、カリフォルニアで金鉱が発見される前である。
- b 清朝が滅亡した後は、移民者数が1万人を超えることはなかった。

- ① a — 正 b — 正
- ② a — 正 b — 誤
- ③ a — 誤 b — 正
- ④ a — 誤 b — 誤

世界史A

B 20世紀になると、④中南米やカリブ海域出身の中流階層の中から、ヨーロッパで高等教育を受ける者が現れた。トリニダード＝トバゴの初代首相となったエリック＝ウィリアムズもその一人である。奨学金を得てオクスフォード大学に留学したウィリアムズは、『資本主義と奴隷制』として後に出版される博士論文を完成させた。だが、植民地出身の⑤黒人である彼は、⑥イギリスの大学で就職することができなかった。その後ウィリアムズは、アメリカの大学で働いた後、母国の独立運動を指導することとなる。その⑦事績から、彼の著作をはじめとする関連資料は、1999年にユネスコの「世界の記憶」(記憶遺産)に登録された。

問4 下線部④の歴史について述べた文として正しいものを、次の①～④のうちから一つ選べ。 14

- ① ヴァスコ＝ダ＝ガマが、西インド諸島に到達した。
- ② クリオーリヨが中心となって、ラテンアメリカ諸国の独立運動が進められた。
- ③ アルゼンチンで、アジェンデが、社会主義政権を樹立した。
- ④ ベネズエラは、BRICSと呼ばれる新興国の一つとして台頭した。

問5 下線部⑤について述べた次の文aとbの正誤の組合せとして正しいものを、下の①～④のうちから一つ選べ。 15

- a 南アフリカで、黒人を差別するアパルトヘイトが採用された。
- b クー＝クラックス＝克蘭(KKK)が、黒人を迫害した。

- ① a — 正 b — 正
- ② a — 正 b — 誤
- ③ a — 誤 b — 正
- ④ a — 誤 b — 誤

世界史A

問 6 下線部⑥に関連して、次の年表に示した a ~ d の時期のうち、イギリスがヨーロッパ共同体 (EC) に加盟した時期として正しいものを、下の①~④のうちから一つ選べ。 16

a
1952 年 ヨーロッパ石炭鉄鋼共同体の設立
b
1969 年 ド = ゴール仏大統領の辞任
c
1994 年 ヨーロッパ経済領域の発足
d

- ① a ② b ③ c ④ d

問 7 下線部⑦に関連して、指導者や支配者の事績について述べた文として正しいものを、次の①~④のうちから一つ選べ。 17

- ① アギナルドが、フィリピンの独立運動を指導した。
- ② ムハンマド = アリーが、チュニジアを支配した。
- ③ アウン = サンが、ベトナムの独立運動を進めた。
- ④ ディズレーリが、イギリスの労働党を率いた。

世界史 A

C かつて、日本には「外地」という行政上の区分が存在していた。この外地の範囲には、⑧台湾や朝鮮半島などが含まれ、主として軍人出身の日本人総督をトップに据えた行政機関が設置されていた。このような統治の⑨制度が導入されるなかで、現地の特性と事情に応じた各種の教育機関が設置され、外地出身の生徒・学生も入学していた。特に、京城(現ソウル)と台北には、東京・京都・仙台・福岡・札幌に続いて、それぞれ帝国大学が設置され、日本の支配を支える⑩人材の養成もなされた。

問 8 下線部⑧の歴史について述べた文として正しいものを、次の①～④のうちから一つ選べ。

18

- ① 明に抵抗するために、鄭成功が拠点を築いた。
- ② 中国共産党が、内戦に敗れて逃れてきた。
- ③ 日清修好条規により、日本の領土となった。
- ④ 新興工業経済地域(NIES)の一つとして、経済的に台頭した。

問 9 下線部⑨について述べた文として正しいものを、次の①～④のうちから一つ選べ。

19

- ① 高句麗で、府兵制が実施された。
- ② メソポタミアで、カースト制度が成立した。
- ③ シンガポールで、一国二制度が導入された。
- ④ ドイツで、ナチ党(ナチス)が徴兵制を復活させた。

世界史A

問10 下線部⑩について述べた次の文章中の空欄 **ア** と **イ** に入れる語の組合せとして正しいものを，下の①～④のうちから一つ選べ。 **20**

中国の伝統的な官吏登用試験である科挙は **ア** によって廃止され，新しい学問と教育が模索されていった。その中で，文学における白話(口語)の使用を提唱した **イ** は，北京大学教授として後進の育成にあたった。

- | | | |
|---|-----------|------|
| ① | ア—清 | イ—胡適 |
| ② | ア—清 | イ—杜甫 |
| ③ | ア—中華人民共和国 | イ—胡適 |
| ④ | ア—中華人民共和国 | イ—杜甫 |

世界史 A

第 3 問 海を舞台とした交流や国家・地域の再編について述べた次の文章 A・B を読み、下の問い(問 1～7)に答えよ。(配点 21)

A イギリス海峡に浮かぶチャンネル諸島には、古代以来、様々な民族が①海洋活動を通して定住した。10 世紀にチャンネル諸島がフランスのノルマンディ公領に編入されると、ノルマンディからの移民が増え、フランス化が進んだ。その後、②イギリス王の支配下に編入されたため、現在もこの島々はイギリス王室領となっている。このような経緯から、チャンネル諸島はノルマン法に由来する独自の法体系を有し、英語と並んでフランス語が用いられるなど、フランスの③文化的影響が色濃く残っている。

問 1 下線部①について述べた文として最も適当なものを、次の①～④のうちから一つ選べ。

21

- ① 鄭和が、大西洋に遠征した。
- ② スペインが、バタヴィアを拠点とした。
- ③ ダウ船は、インド洋交易で用いられた。
- ④ 羅針盤は、ポルトガルで発明された。

問 2 下線部②に関連して、ヨーロッパの君主について述べた文として正しいものを、次の①～④のうちから一つ選べ。

22

- ① アウグストゥスが、キリスト教を公認した。
- ② ヴィルヘルム 2 世が、「世界政策」を進めた。
- ③ オットー 1 世(オットー)が皇帝となり、オーストリア帝国が成立した。
- ④ ニコライ 2 世が退位し、ブルボン朝が滅亡した。

問 3 下線部③に関連して、文化的影響や技術の伝播^{でんぱ}について述べた文として最も
適当なものを、次の①～④のうちから一つ選べ。 23

- ① フランス人が、種子島に鉄砲を伝えた。
- ② ビザンツ文化の影響で、ガンダーラ美術が生まれた。
- ③ 製紙法が、中国からイスラーム世界に伝わった。
- ④ 東学は、ゾロアスター教の影響を受けた。

世界史A

B 19世紀半ばに、領土が西海岸に達した④アメリカ合衆国は、太平洋の⑤海のネットワークに参入した。中国との貿易の中継地として、また捕鯨船の寄港や漂流民の交換を目的に、⑥アメリカ政府は、日本に開国を迫った。ハワイに渡ったアメリカ人は、カメハメハ朝が治めるハワイで多くの土地を購入し、日本人移民などを使役するプランテーションを経営して、ハワイの経済を支配した。彼らは、1893年の⑦クーデタによってハワイ女王を廃位に追い込み、王朝を廃止した。その後、アメリカ政府はハワイを併合し、アジア進出の拠点とした。

問 4 下線部④の対外進出について述べた文として正しいものを、次の①～④のうちから一つ選べ。

24

- ① カリカットを拠点とした。
- ② グアムを獲得した。
- ③ ケベックに植民地を建設した。
- ④ 朝鮮を開国させた。

問 5 下線部⑤について述べた次の文 a と b の正誤の組合せとして正しいものを、下の①～④のうちから一つ選べ。

25

- a ヨーロッパ・アフリカ・アメリカを結んで三角貿易が行なわれた。
- b パナマ運河の開通によって、地中海と紅海が結ばれた。

- ① a — 正 b — 正
- ② a — 正 b — 誤
- ③ a — 誤 b — 正
- ④ a — 誤 b — 誤

問 6 下線部⑥に関連して、日米関係の歴史について述べた次の文 a ~ c が、年代の古いものから順に正しく配列されているものを、下の①~⑥のうちから一つ選べ。 26

- a 日本への石油禁輸が実施された。
- b 日米和親条約が締結された。
- c マッカーサーの主導で、日本の占領政策が開始された。

- ① a → b → c
- ② a → c → b
- ③ b → a → c
- ④ b → c → a
- ⑤ c → a → b
- ⑥ c → b → a

問 7 下線部⑦に関連して、クーデタや反乱について述べた文として正しいものを、次の①~④のうちから一つ選べ。 27

- ① イタリアで、ブリュメール 18 日のクーデタが起こった。
- ② エジプトで、ウラービー(オラービー)の反乱が起こった。
- ③ 西太后が、上海クーデタ(四・一二事件)を起こした。
- ④ エリツィンが、ソ連でクーデタを起こした。

世界史A

第4問 宗教運動と政治・社会との関わりについて述べた次の文章A・Bを読み、
下の問い(問1～6)に答えよ。(配点 18)

A ①ルターの宗教改革は、教皇中心の信仰上の秩序に風穴を開ける一方、ヨーロッパの政治・社会に大きな変化をもたらした。ドイツでは世俗権力が②宗派に分かれて争い、皇帝と対立した新教派諸侯が結集し、フランス国王と同盟を結んで皇帝を敗走させる事件が起こった。これにより皇帝は妥協を強いられ、宗派間の均衡が保たれることになる。一方、社会に目を向けると、信仰の分裂は③都市や農村で信徒同士の対立を引き起こすこともあった。以後、宗派の分裂状況は解消されないが、近年では、宗教改革記念事業における新旧両派の協働など、歩み寄りも見られる。

問1 下線部①に関連して、キリスト教と政治・社会との関わりについて述べた文として正しいものを、次の①～④のうちから一つ選べ。

28

- ① ローマ教皇は、フランク王カールに帝冠を授けた。
- ② フェリペ2世は、カトリックを弾圧した。
- ③ 宋で、典礼問題が起こった。
- ④ キリスト教の精神に基づいて、マラーター同盟(マラータ同盟)が結成された。

問 2 下線部②に関連して、次の年表に示した a ~ d の時期のうち、フランスでユグノー戦争が起こった時期として正しいものを、下の①~④のうちから一つ選べ。 29

a
1378年 教会大分裂(シスマ)の開始
b
1420年 第1回対フス派十字軍の派遣
c
1534年 再洗礼派によるミュンスター統治の開始
d

- ① a ② b ③ c ④ d

問 3 下線部③に関連して、新しい政治的な動きの舞台となった都市について述べた文として正しいものを、次の①~④のうちから一つ選べ。 30

- ① ワルシャワで、オバマ大統領が、核兵器廃絶を訴える演説を行った。
- ② ワシントンで、キング牧師が、「私には夢がある」で知られる演説を行った。
- ③ ヴェルダンで、バスティーユ牢獄が襲撃された。
- ④ 平壤で、天安門事件が起こった。

世界史 A

B アジアで西欧列強による植民地獲得の動きが強まると、19世紀後半のタイではそれに対抗するために、国王 **ア** と王族たちを中心として、司法・行政制度の改革や④軍隊、教育制度の整備などの近代化政策が進められた。宗教面でも、**ア** の弟である王族僧ワチラヤーン(下図参照)の努力によって、経典学習のシステムが整備されるとともに、「サンガ法」と呼ばれる国家の法律によって規定される⑤仏教教団の枠組みが作られた。最高位の僧である法王を頂点とし、行政制度に連動する命令系統を備えた教団組織は、現在のタイ仏教教団の原型となるものであった。



僧衣姿のワチラヤーン

問 4 文章中の空欄 **ア** に入れる語として正しいものを、次の①～④のうちから一つ選べ。 **31**

- ① スレイマン1世
- ② ラーマ5世(チュラロンコン, チュラロンコーン)
- ③ スハルト
- ④ ヘン=サムリン

世界史A

問 5 下線部④について述べた文として正しいものを、次の①～④のうちから一つ選べ。

32

- ① ソヴィエト政権が、赤軍を組織した。
- ② ゲバラが、赤シャツ隊を組織した。
- ③ 古代ギリシアで、マムルークが台頭した。
- ④ 大越国(李朝)で、郷勇が組織された。

問 6 下線部⑤について述べた文として誤っているものを、次の①～④のうちから一つ選べ。

33

- ① アショーカ王が、仏教を保護した。
- ② ガウタマ=シッダールタが、仏教を開いた。
- ③ ボロブドゥールが、ジャワに建設された。
- ④ 玄奘が、ビルマ(ミャンマー)から経典を持ち帰った。